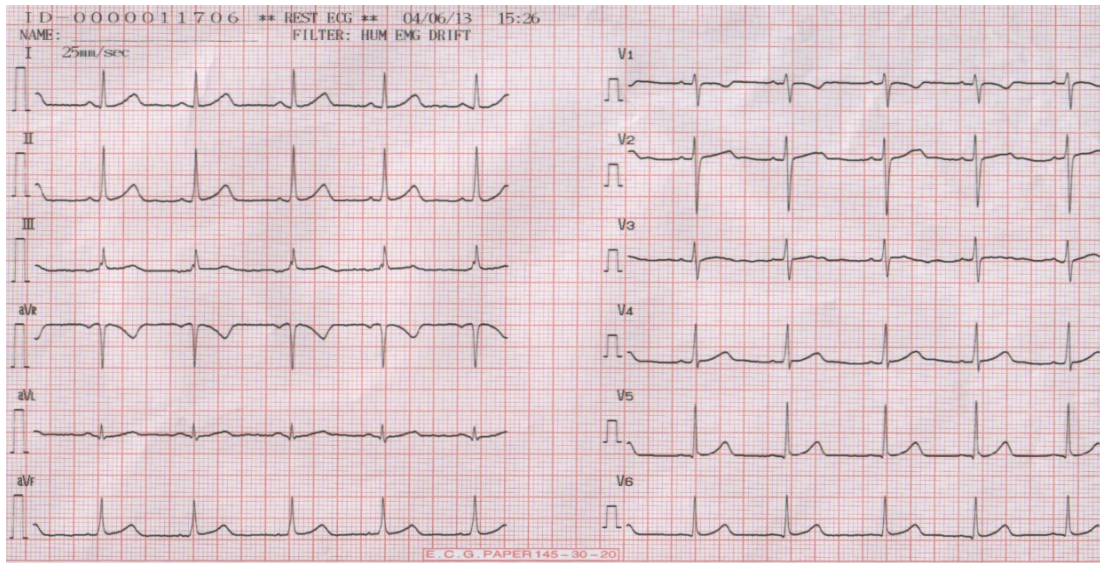
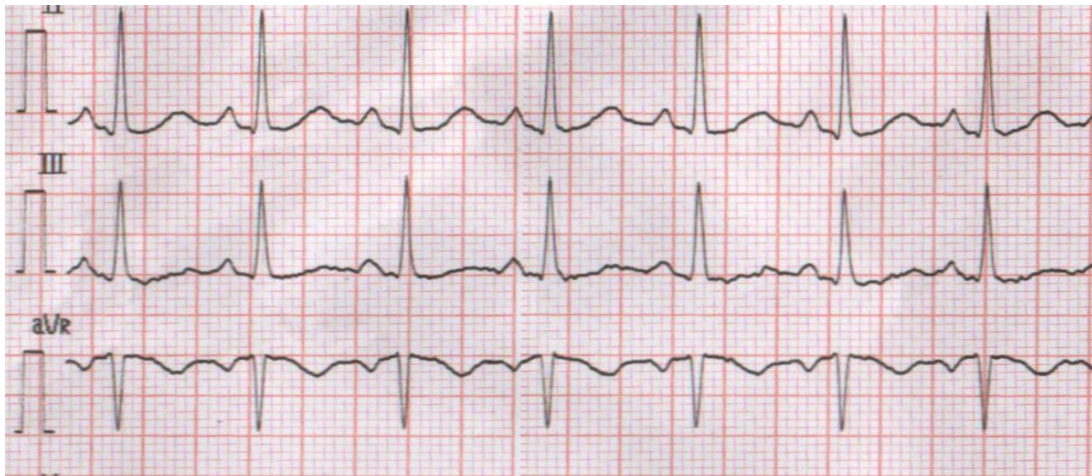


金英杰临床张伟老师团队制作



1 题目： 女，56 岁。胸闷 2 天。最可能的心电图诊断是

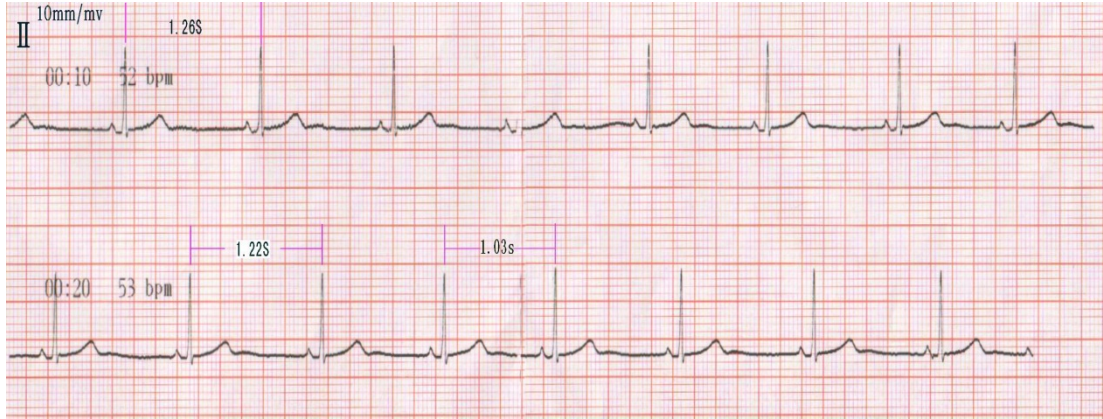
答案： A: 急性心肌梗死 B: 窦性心动过速 C: 心房颤动 D: 正常心电图(*) 2 题目



: 男，67 岁。胸部不适 2 天。最可能的心电图诊断是

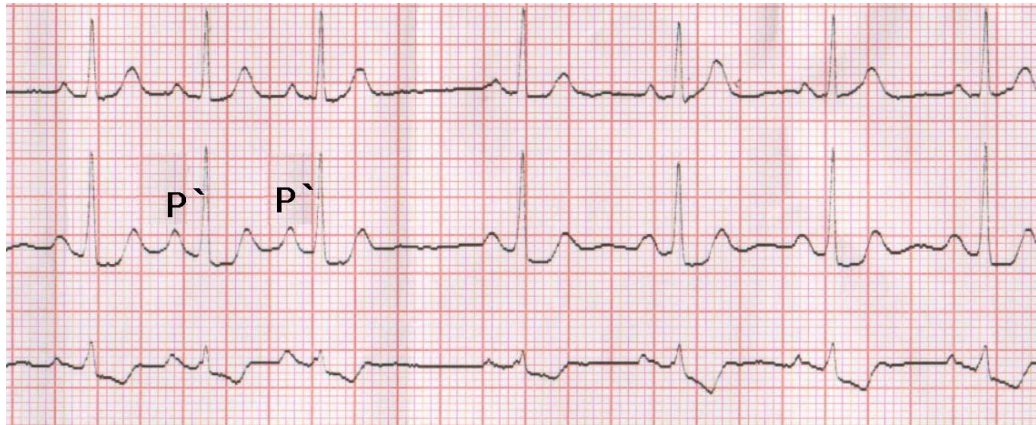
答案： A: 窦性心动过速(*) B: 正常心电图 C: 左心室肥厚 D: 心房颤动





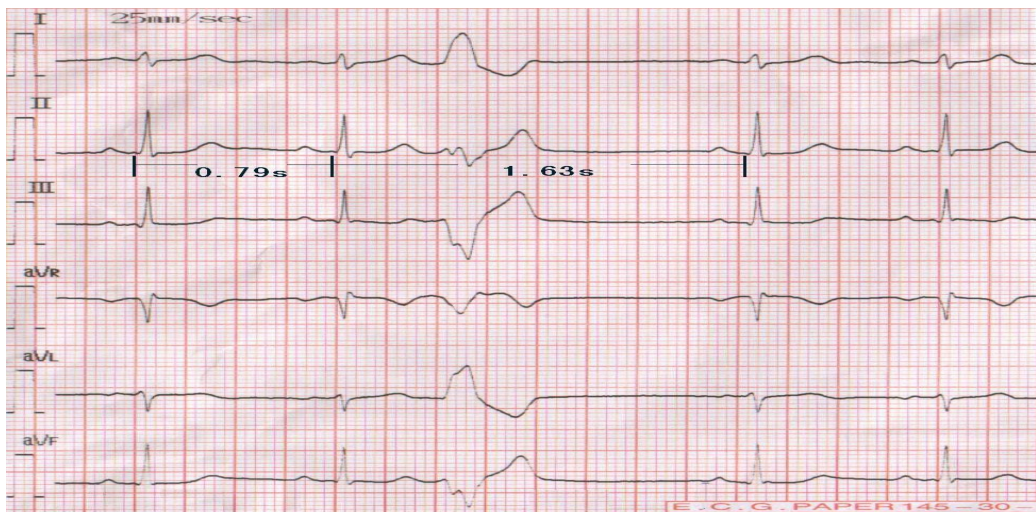
3 题目： 女，48 岁。胸部刺痛 1 天。最可能的心电图诊断是

答案： A: 急性心肌梗死 B: 窦性心动过缓(*) C: 正常心电图 D: 左心室肥厚



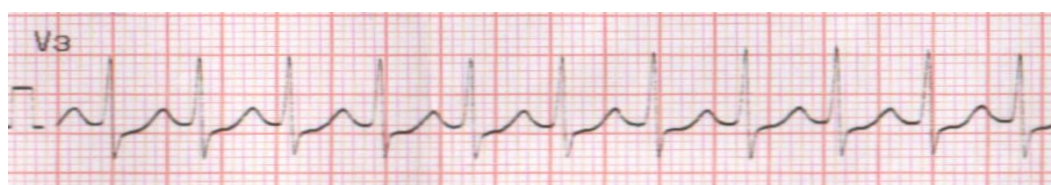
4 题目： 女，56 岁。胸闷 2 天。最可能的心电图诊断是

答案： A: 急性心肌梗死 B: 窦性心动过速 C: 心房颤动 D: 房性期前收缩(*)



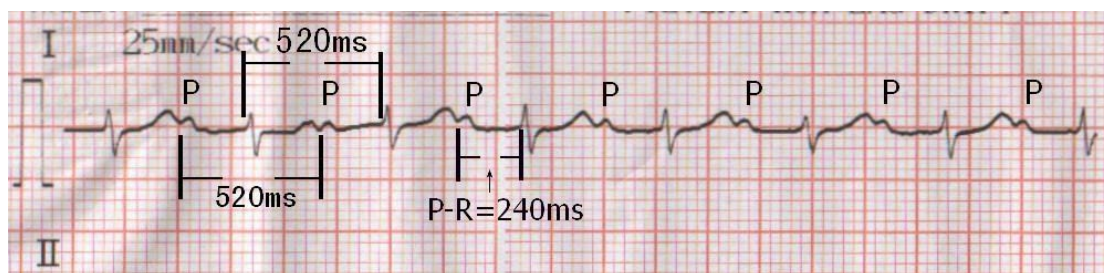
5 题目： 男， 50 岁。情绪激动时感心悸 1 周。最可能的心电图诊断是

答案： A: 房性期前收缩 B: 室性期前收缩(*) C: 左心室肥厚 D: 左束支传导阻滞



6 题目： 女， 45 岁。突发心悸 20 分钟。最可能的心电图诊断是

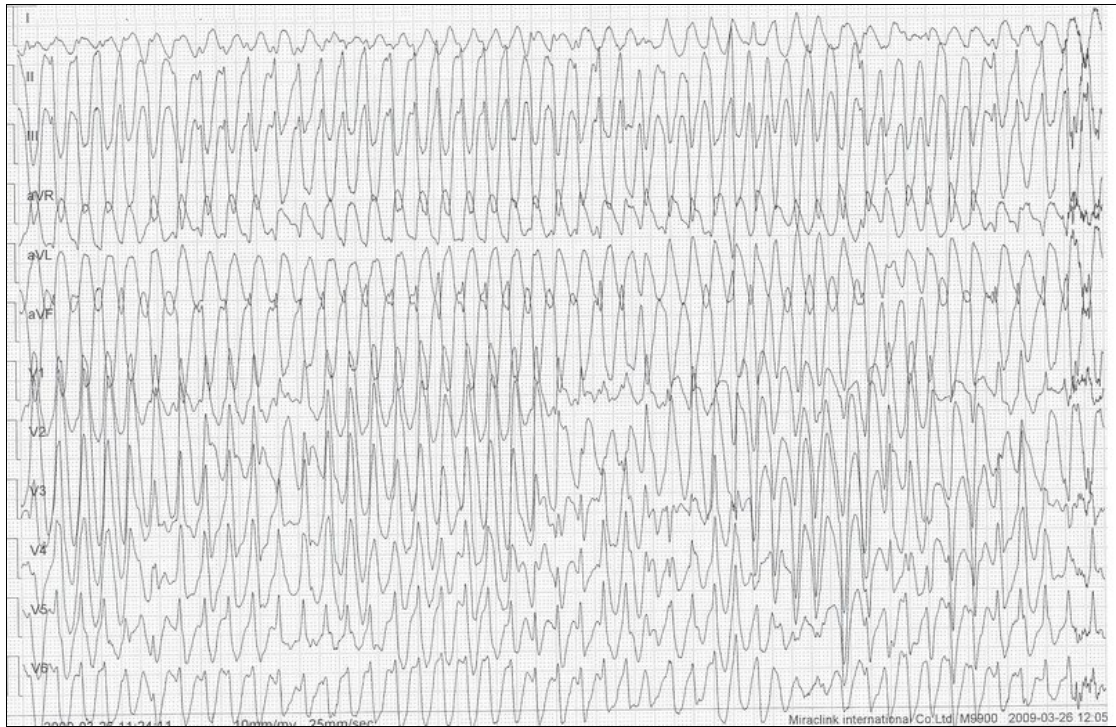
答案： A: 心房颤动 B: 正常心电图 C: 窦性心动过速 D: 阵发性室上性心动过速(*)



7 题目： 女， 69 岁。胸闷 10 分钟。最可能的心电图诊断是

答案： A: 房室传导阻滞(*) B: 窦性心动过缓 C: 房性期前收缩 D: 正常心电图





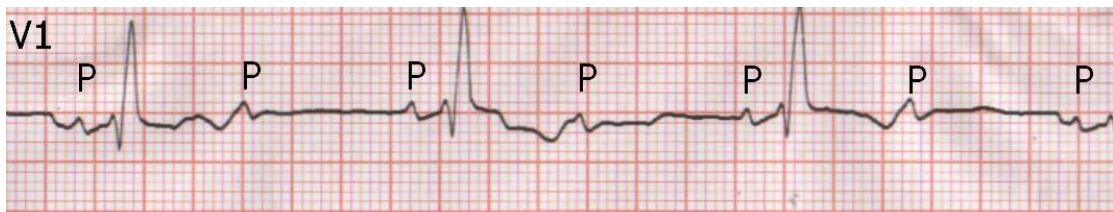
8 题目： 男，48 岁。意识模糊 5 分钟。最可能的心电图诊断是

答案： A: 房性期前收缩 B: 窦性心动过速 C: 室性心动过速(*) D: 心房颤动



9 题目： 男，45 岁。胸痛 1 小时。最可能的心电图诊断是

答案： A: 二度 II 型传导阻滞 B: 室性期前收缩 C: 三度传导阻滞
D: 二度 I 型传导阻滞(*)



10 题目： 男，45 岁。胸痛 1 小时。最可能的心电图诊断是

答案： A: 二度 II 型传导阻滞(*) D: 二 B: 室性期前收缩 C: 三度传导阻滞
度 I 型传导阻滞





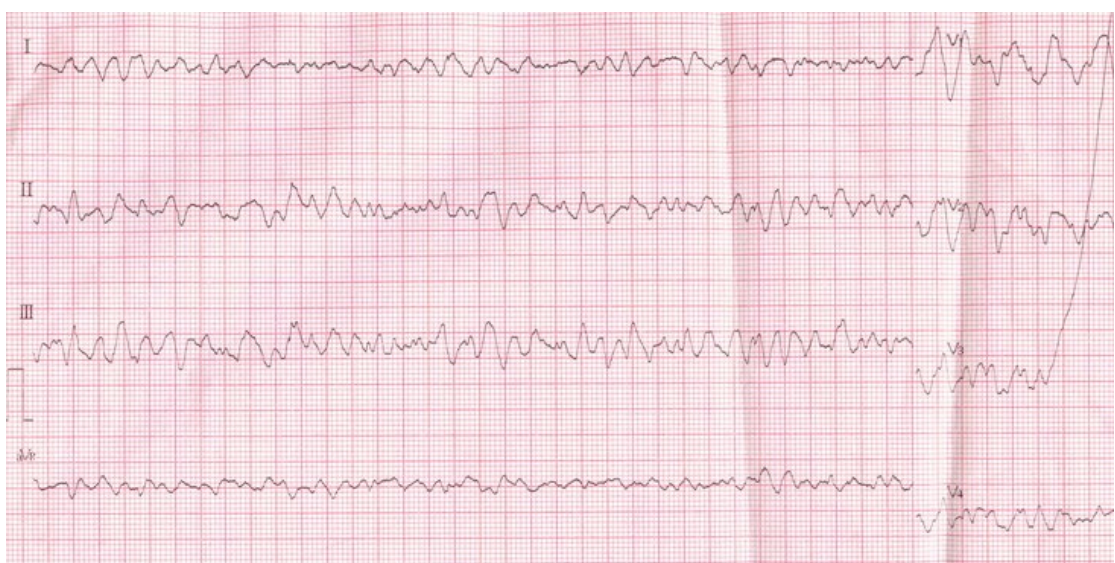
11 题目： 男，45 岁。胸痛 1 小时。最可能的心电图诊断是

答案： A： 二度 II 型传导阻滞 B： 室性期前收缩 C： 三度传导阻滞(*) D： 二度 I 型传导阻滞



12 题目： 女，68 岁。心悸 1 个月。最可能的心电图诊断是

答案： A： 正常心电图 B： 心房颤动(*) C： 急性心肌梗死 D： 室性期前收缩



13 题目： 男，56 岁。意识丧失 5 分钟。最可能的心电图诊断是



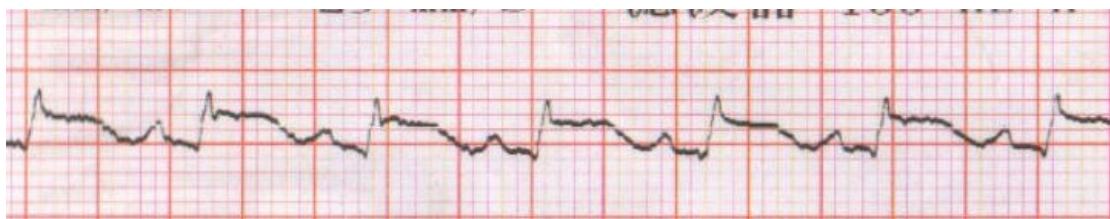
金英杰张伟老师

答案： A: 窦性心动过缓 B: 室性期前收缩 C: 心房颤动 D: 心室颤动(*)



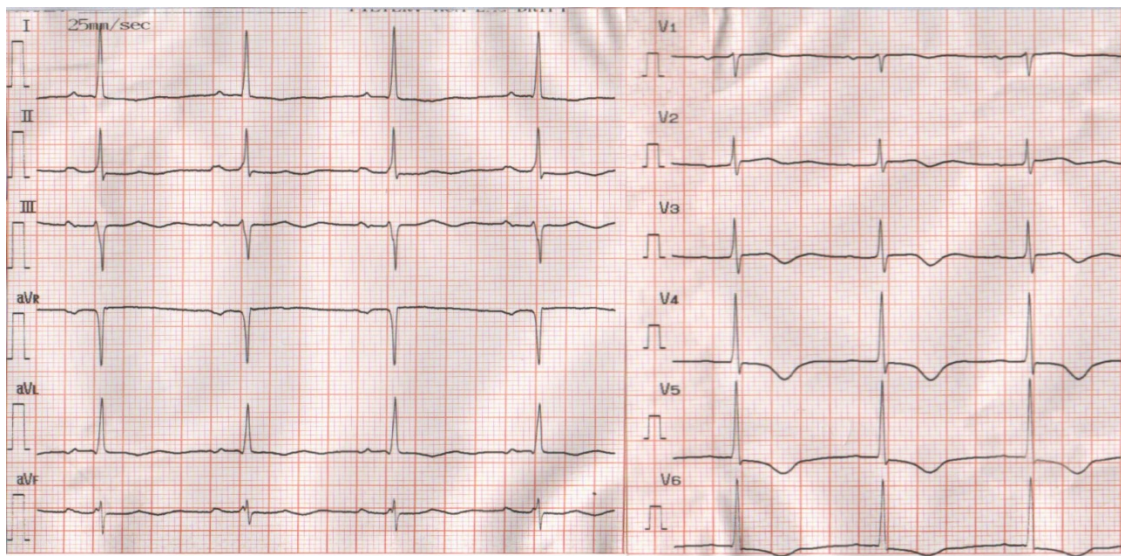
14 题目： 女，73 岁。胸闷 3 小时。最可能的心电图诊断是

答案： A: 窦性心动过缓 B: 正常心电图 C: 急性心肌梗死(*) D: 心房颤动



： 女，63 岁。胸痛 1 小时。最可能的心电图诊断是

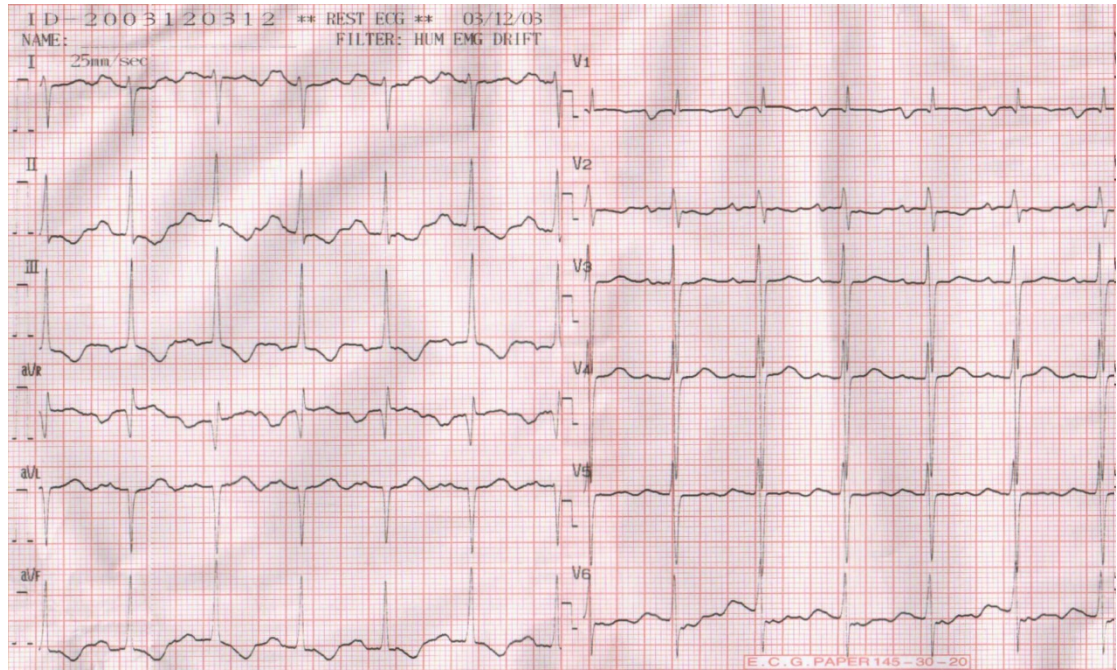
答案： A: 窦性心动过缓 B: 正常心电图 C: 急性心肌梗死(*) D: 心房颤动



16 题目： 男，60 岁。突发心悸伴胸闷 1 小时。最可能的心电图诊断是

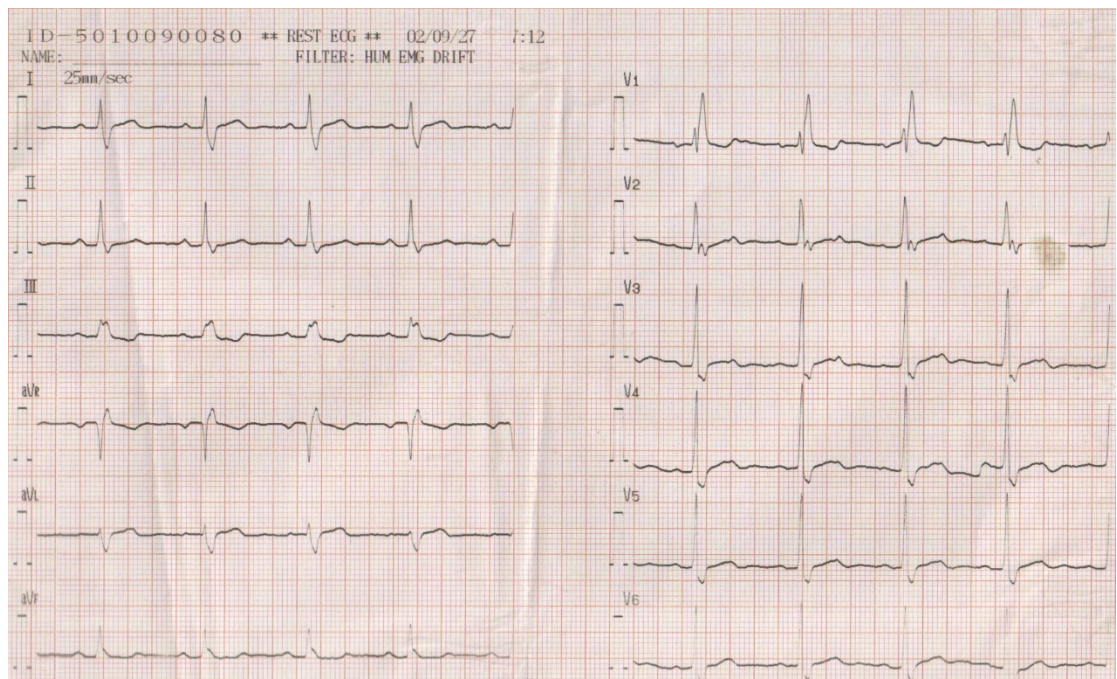
答案： A: 阵发性室上性心动过速 B: 左心室肥厚(*) C: 急性心肌梗死 D: 心房颤动





17 题目： 男，70 岁。突发心悸伴胸闷 2 小时。最可能的心电图诊断是

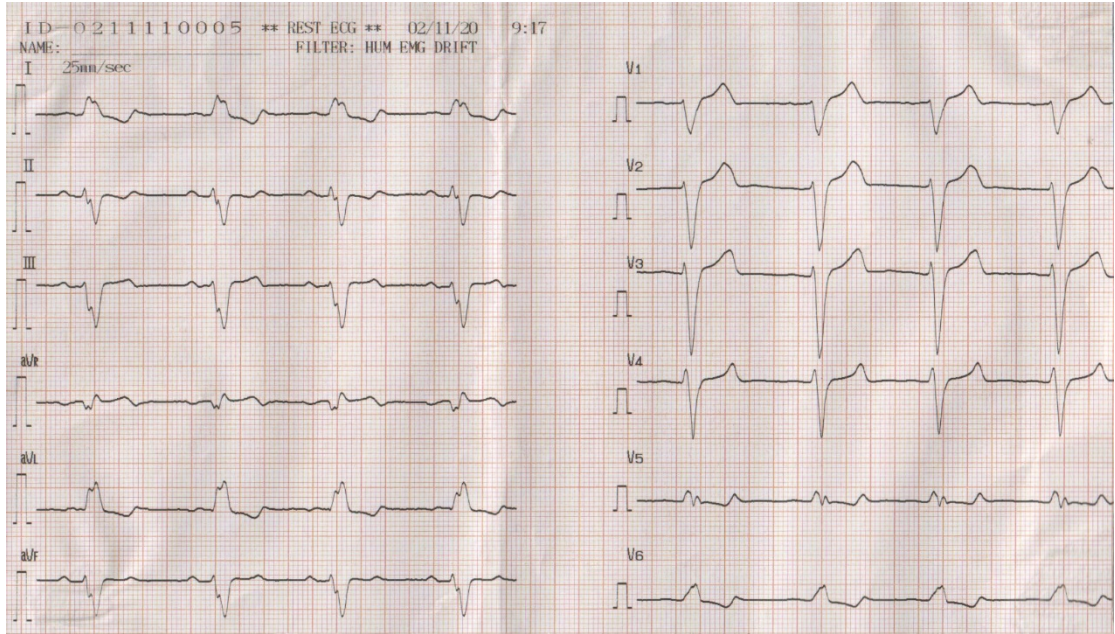
答案： A: 阵发性室上性心动过速 B: 右心室肥厚(*) C: 左心室肥厚 D: 心房颤动



18 题目： 男，76 岁。胸闷 1 天。最可能的心电图诊断是

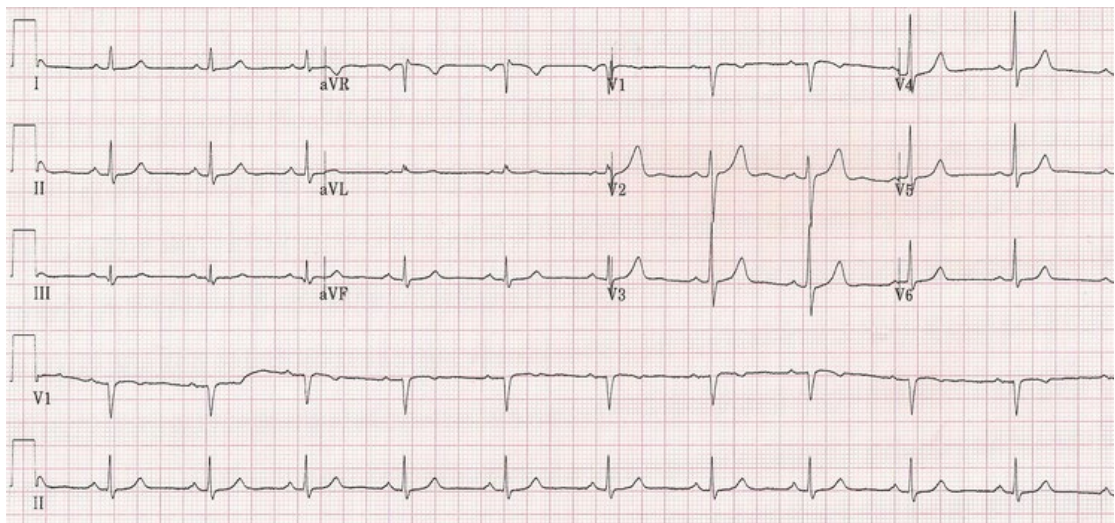
答案： A: 窦性心动过速 B: 室性期前收缩 C: 急性心肌梗死 D: 完全性右束支传导阻滞 (*)





19 题目： 男，64 岁。头痛 1 天。最可能的心电图诊断是

答案： A: 正常心电图 B: 心房颤动 C: 急性心肌梗死 D: 右束支传导阻滞(*)

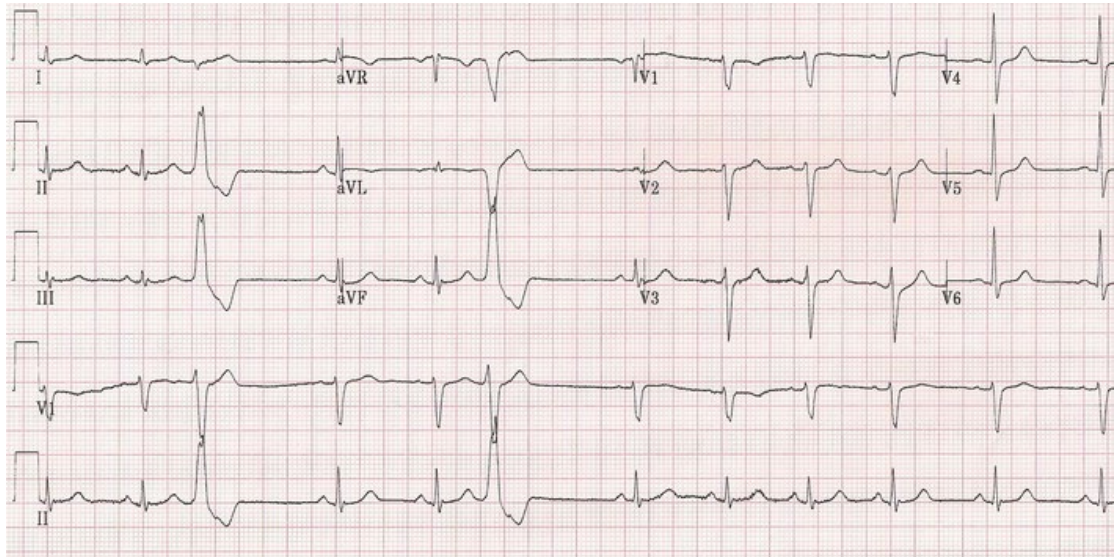


20 题目： 女，48 岁。胸部刺痛 1 天。最可能的心电图诊断是

答案： A: 急性心肌梗死 B: 窦性心动过缓 C: 正常心电图(*) D: 左心室肥厚

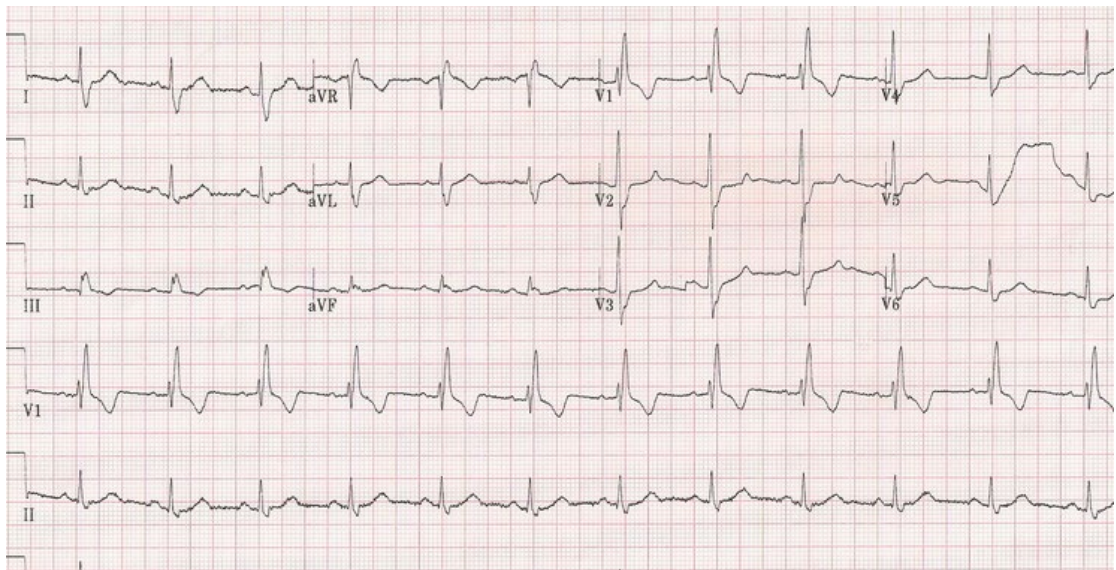


金英杰张伟老师



21 题目： 男，76 岁。胸闷 1 天。最可能的心电图诊断是

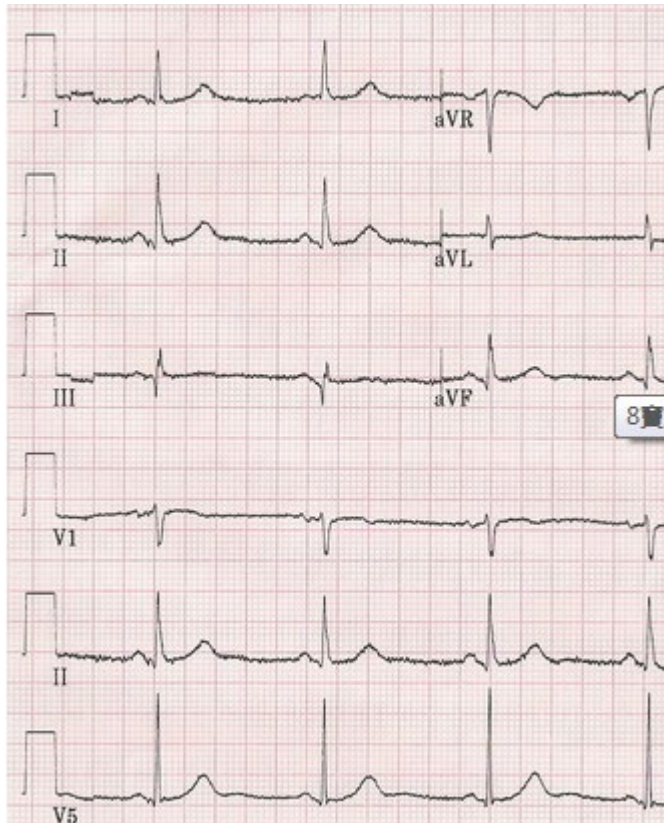
答案： A: 窦性心动过速 B: 室性期前收缩(*) C: 急性心肌梗死 D: 完全性左束支传导阻滞



22 题目： 女，35 岁。间断胸痛 1 周。最可能的心电图诊断是

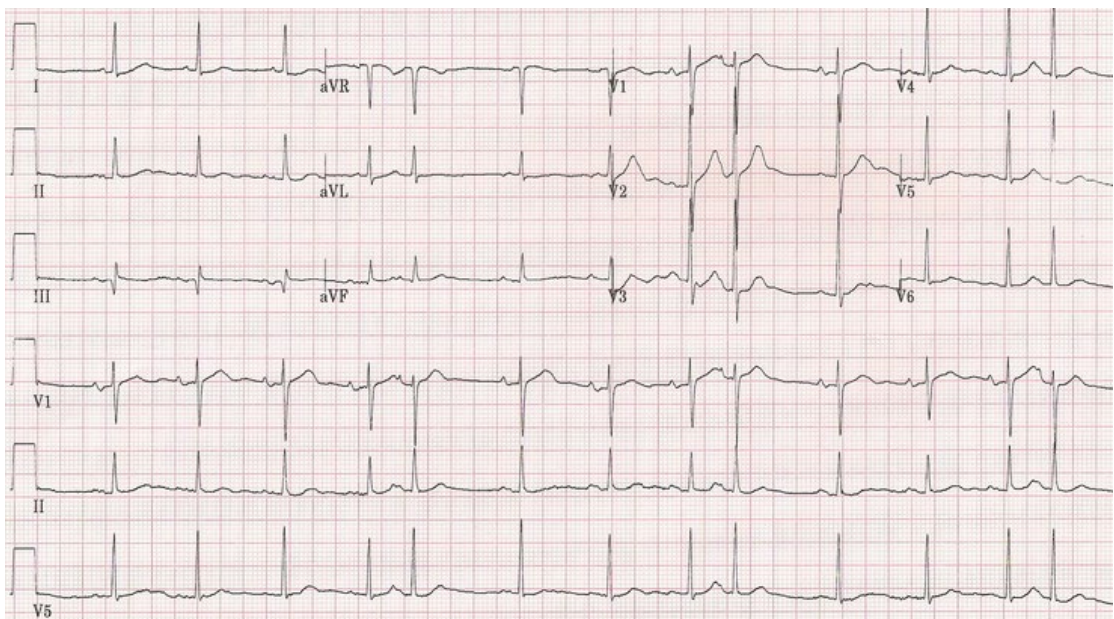
答案： A: 急性心肌梗死 B: 窦性心动过速 C: 室性心动过速 D: 右束支传导阻滞(*)





23 题目： 女，70 岁。乏力 1 周。最可能的心电图诊断是

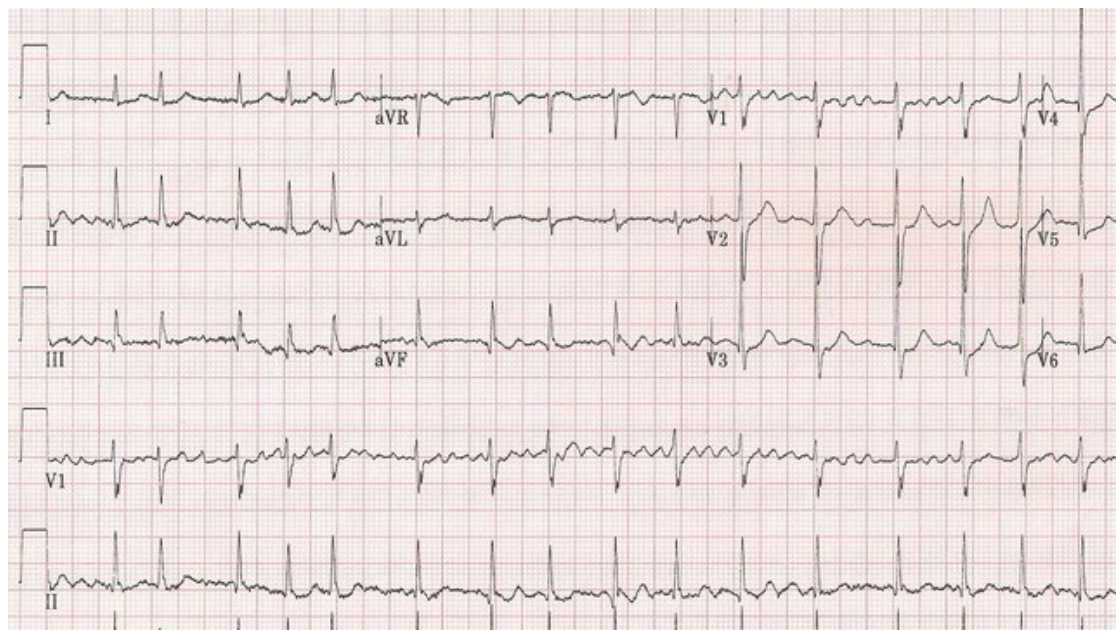
答案： A: 心房颤动 B: 房性期前收缩 C: 窦性心动过缓(*) D: 三度房室传导阻滞



24 题目： 女，37 岁。发热 1 周，心悸 1 天。最可能的心电图诊断是

答案： A: 房性期前收缩(*) B: 室性期前收缩 C: 窦性心动过速 D: 心房颤

动

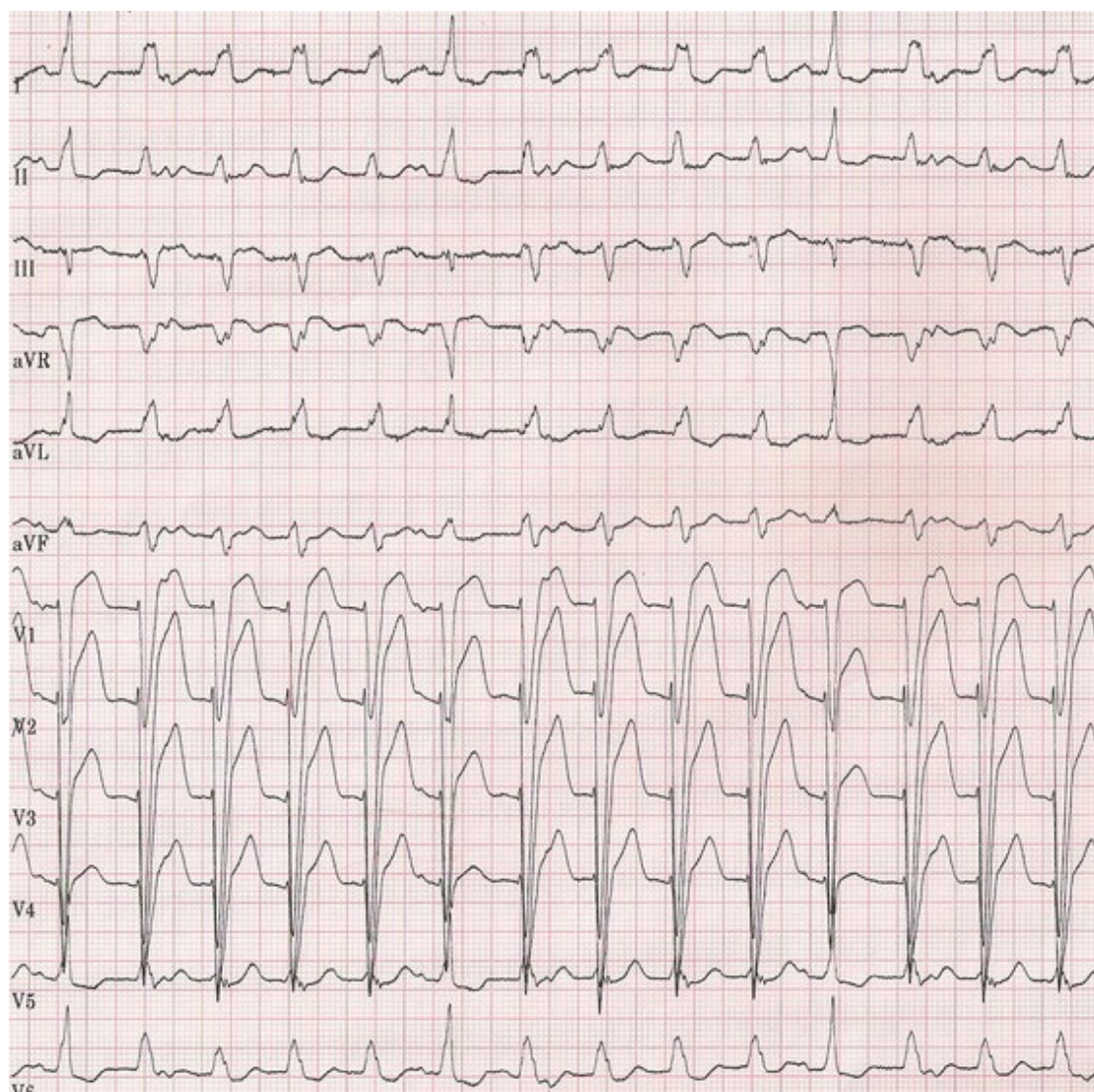


25 题目： 男，83 岁。胸闷 1 周。最可能的心电图诊断是

答案： A: 心房颤动(*) B: 房性期前收缩 C: 窦性心动过速 D: 阵发性室上性心动过速

金英杰张伟老师

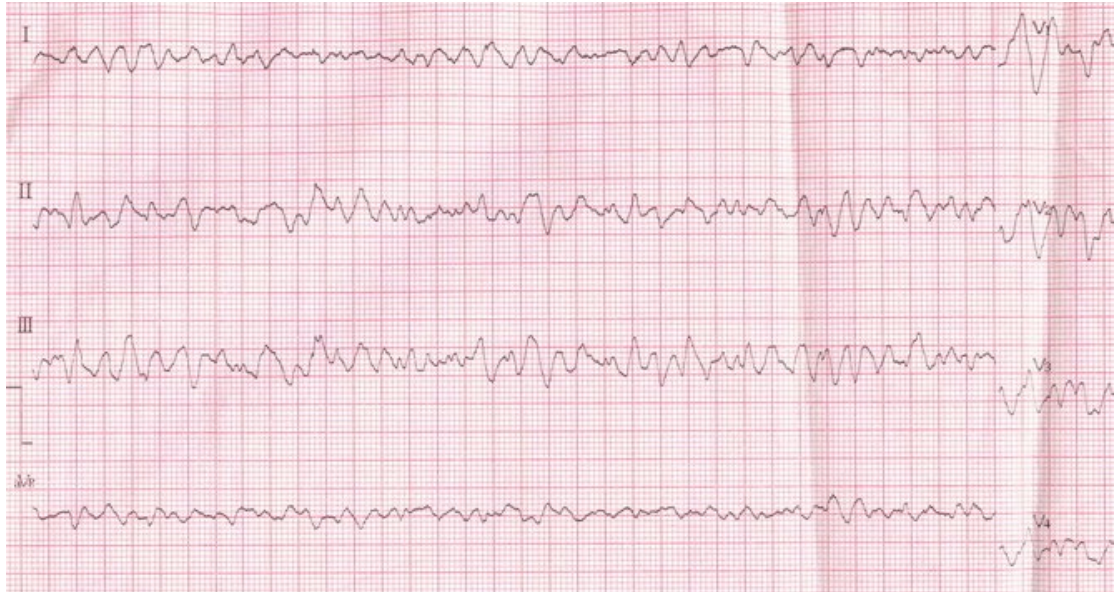




26 题目： 男，40 岁。持续心悸 2 小时。最可能的心电图诊断是

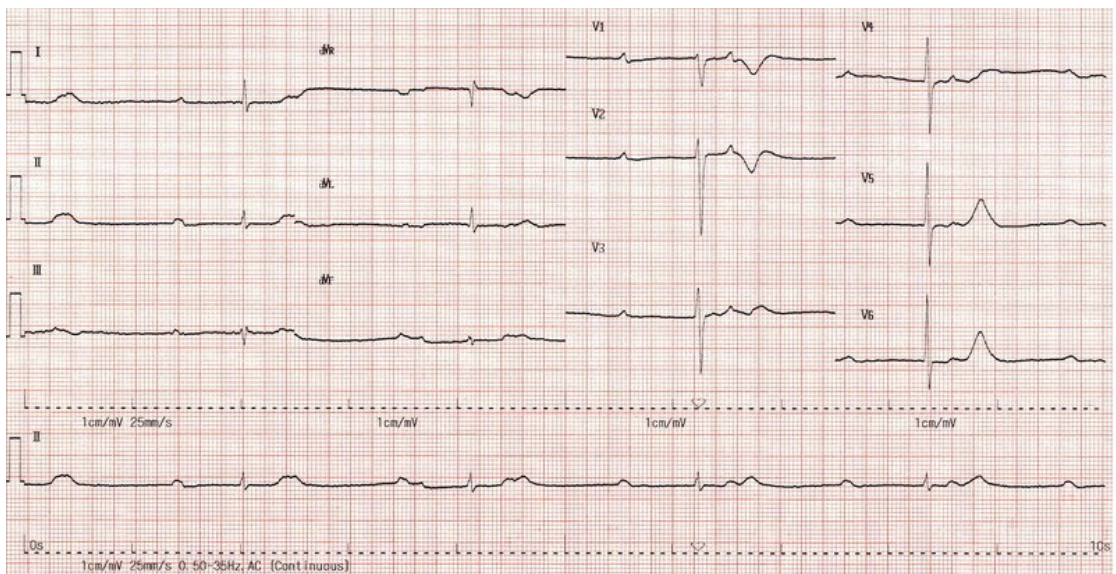
答案： A: 窦性心动过速 B: 室性心动过速(*) C: 心房颤动 D: 心室颤动





27 题目： 男，69 岁。意识丧失 2 分钟。最可能的心电图诊断是

答案： A: 心房颤动 B: 心室颤动(*) C: 三度房室传导阻滞 D: 窦性心动过速

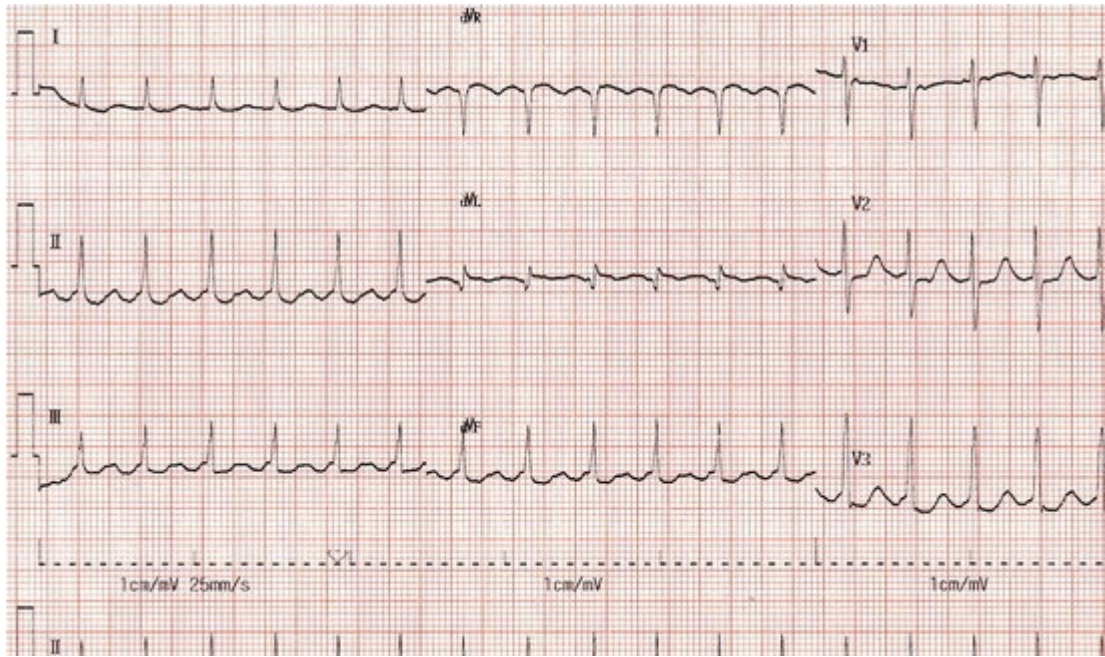


28 题目： 男，50 岁。心悸 1 小时。最可能的心电图诊断是

答案： A: 正常心电图 B: 心房颤动 C: 窦性心动过缓 D: 三度房室传导阻滞(*)

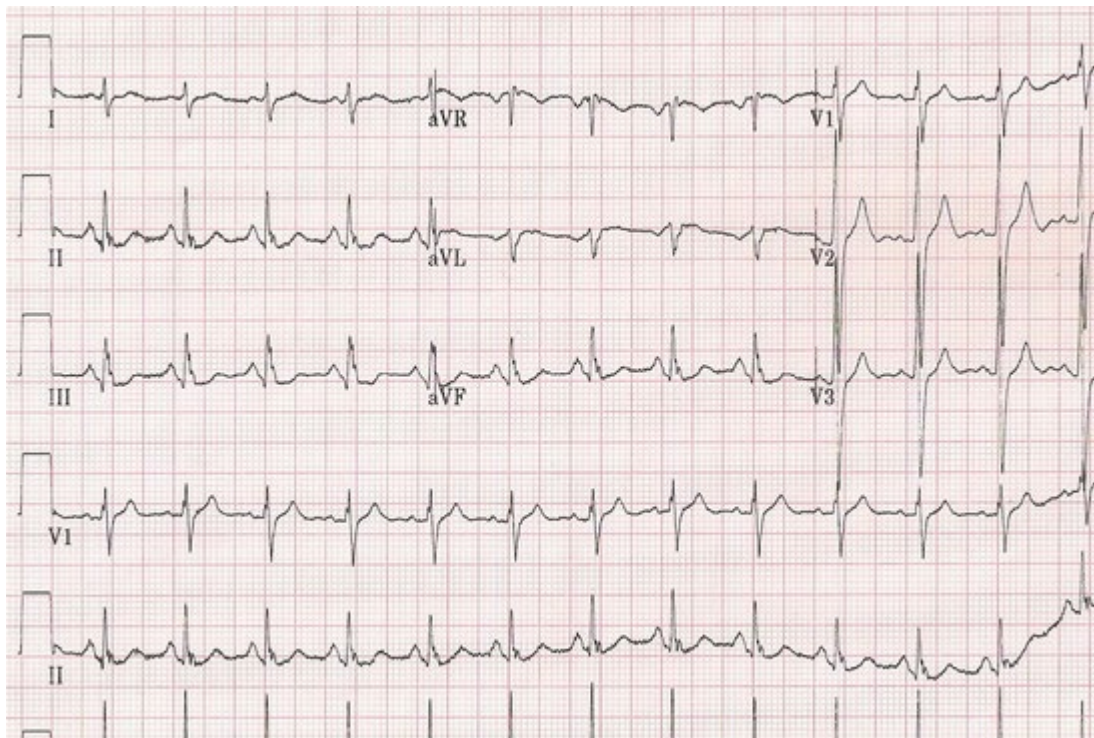


金英杰张伟老师



29 题目： 男，39 岁。突发心悸 30 分钟。最可能的心电图诊断是

答案： A: 心房颤动 B: 房性期前收缩 C: 阵发性室上性心动过速(*) D: 急性心肌梗死

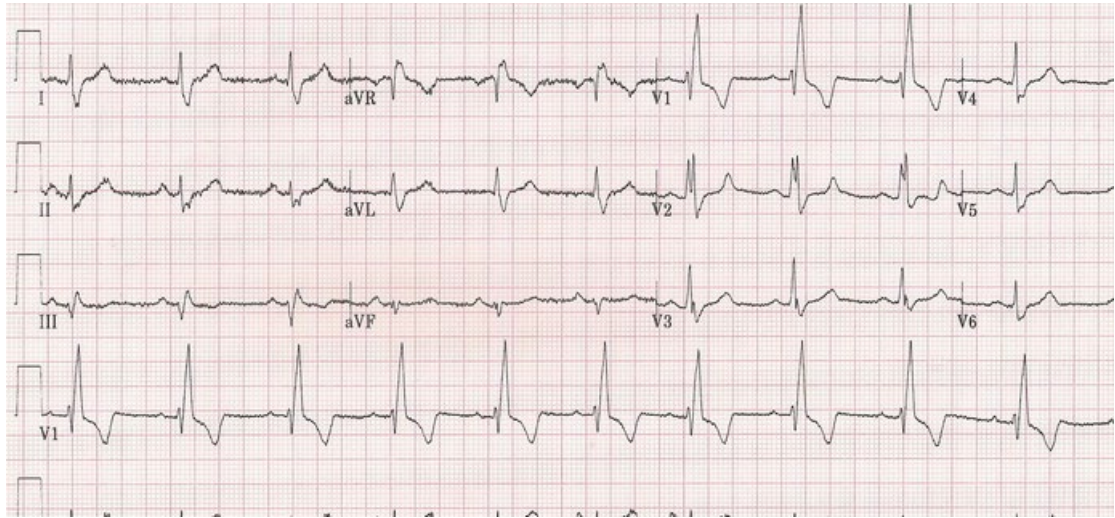


30 题目： 女，35 岁。心悸 1 个月。最可能的心电图诊断是

答案： A: 心房颤动 B: 心室颤动 C: 窦性心动过速(*) D: 阵发性室上性心



动过速



31 题目： 男，60 岁。单位常规查体，无不适。最可能的心电图诊断是

答案： A: 正常心电图 B: 窦性心动过缓 C: 室性心动过速 D: 右束支传导阻滞(*)

